

Usługi w Polsce. Zanieczyszczenie środowiska przyrodniczego Polski

imię i nazwisko

klasa data

Test sprawdzający – rozdziały V i VI

- 1** Podkreśl rodzaje działalności gospodarczej zaliczane do usług. 0–1 p.

*produkcja środków transportu,
doradztwo finansowe, górnictwo ropy naftowej,
działalność administracji państwowej*

- 2** Przyporządkuj rodzajom transportu odpowiednie opisy (A–D). 0–3 p.

a) Transport samochodowy – _____

b) Transport kolejowy – _____

c) Transport przesyłowy – _____

A. Umożliwia przewóz towarów i osób od drzwi do drzwi.

B. Tym rodzajem transportu nie przewozi się osób.

C. Dzięki pracom modernizacyjnym taboru w ostatnich latach udało się zwiększyć komfort podróży i bezpieczeństwo podróżujących.

D. Umożliwia pasażerom szybkie przemieszczanie się między kontynentami.

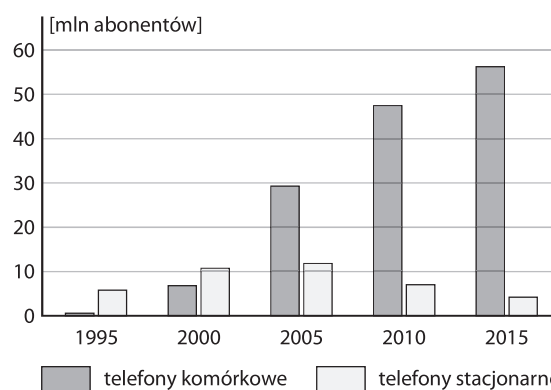
- 3** Na podstawie danych dotyczących przewozu pasażerów poszczególnymi rodzajami transportu w latach 2000 i 2015 uzupełnij zdania. 0–4 p.

Rok	Liczba osób przewiezionych transportem				
	kolejowym (tys.)	samochodowym* (tys.)	mor-skim (tys.)	wodnym śród-lądowym (tys.)	lotni-czym (tys.)
2000	360 687	954 515	625	1 265	5 793
2015	277 321	416 774	597	1 762	7 288

* Dotyczy transportu samochodowego zarobkowego.

- a) W 2015 roku najwięcej osób podróżowało transportem _____.
- b) W 2000 roku transportem wodnym przewieziono _____ tys. pasażerów.
- c) W latach 2000–2015 zmniejszyła się liczba osób przewiezionych między innymi transportem _____.
- d) Z transportu _____ korzysta mniej niż 1 mln pasażerów.

- 4** Na podstawie wykresu przedstawiającego liczbę abonentów telefonii stacjonarnej i komórkowej w Polsce w latach 1995–2015 podkreśl poprawne informacje w poniższych zdaniach. 0–2 p.



- a) W latach 1995–2005 liczba abonentów telefonii stacjonarnej *malala / wzrastała*.
- b) W 2010 roku liczba abonentów telefonii komórkowej przewyższała liczbę abonentów telefonii stacjonarnej około *2,5-krotnie / 6,5-krotnie*.

- 5** Podaj dwa przykłady wpływu transportu kolejowego na jakość życia mieszkańców. 0–2 p.

- _____
- _____

- 6** Dopasuj do opisów celów wyjazdów turystycznych właściwy rodzaj turystyki wybrany spośród podanych. 0–2 p.

poznawcza, religijna, wypoczynkowa, lecznicza

- A. Dwutygodniowy wyjazd do sanatorium w Szczawnicy.

- B. Uczestnictwo w pieszej pielgrzymce na Jasną Górę.

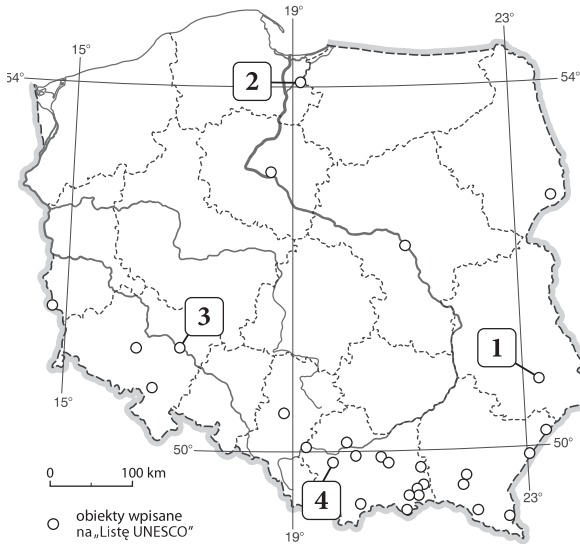
- C. Tygodniowy rajd rowerowy Świątokrzyskim Szlakiem Archeo-Geologicznym.

7 Wpisz w odpowiednie miejsca tabeli poniższe określenia. **0-2 p.**

liczne jeziora, parki narodowe, miejsca kultu religijnego, zabytkowe kopalnie, występowanie wód leczniczych, zamki i pałace

Walory przyrodnicze	Walory kulturowe

8 Przyporządkuj nazwom obiektów wpisanych na Listę UNESCO cyfry, którymi zaznaczono te obiekty na mapie. **0-2 p.**



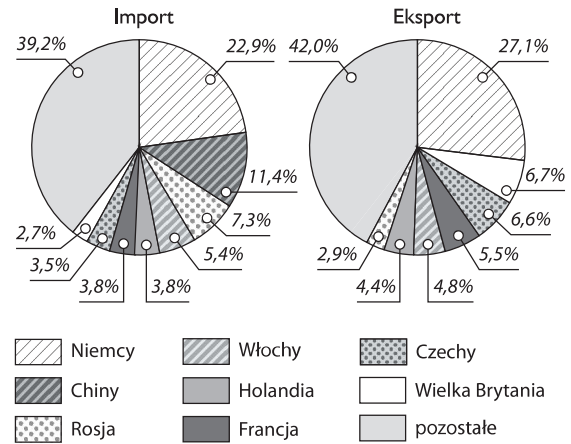
- A. Stare Miasto w Zamościu – _____
- B. Kalwaria Zebrzydowska: manierystyczny zespół architektoniczny i krajobrazowy oraz park pielgrzymkowy – _____
- C. Zamek krzyżacki w Malborku – _____
- D. Hala Stulecia we Wrocławiu – _____

9 Wyjaśnij, kiedy saldo bilansu handlowego jest dodatnie. **0-1 p.**

10 Podkreśl nazwy trzech towarów eksportowych, z których Polska słynie na świecie. **0-1 p.**

meble, komputery osobiste, produkty mleczarskie, węgiel brunatny, mrożonki, statki pasażerskie

11 Na podstawie wykresów przedstawiających głównych partnerów handlowych Polski w 2015 roku wykonaj polecenia. **0-2 p.**



a) Uzupełnij zdanie właściwą nazwą państwa.
Główny partner handlowy Polski w imporcie to _____.

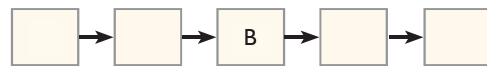
b) Zaznacz poprawne dokończenie zdania.

W 2015 roku Polska miała ujemne saldo handlu zagranicznego między innymi z

- A. Holandią i Niemcami.
- B. Rosją i Włochami.
- C. Czechami i Chinami.

12 Uzupełnij schemat tak, aby prawidłowo przedstawiał proces powstawania kwaśnych opadów. **0-2 p.**

- A. Spalanie węgla kamiennego i emitowanie do atmosfery między innymi tlenku siarki oraz tlenku węgla(IV).
- B. Powstawanie kwaśnych opadów.
- C. Zakwaszenie gleb i wód.
- D. Obumieranie roślin.
- E. Reakcja tlenków siarki i azotu z parą wodną.



13 Oceń prawdziwość informacji. Zaznacz P, jeśli informacja jest prawdziwa, lub F, jeśli jest fałszywa. **0-3 p.**

Do substancji szkodliwych dla atmosfery zalicza się między innymi tlenek siarki(IV), tlenki azotu i metale ciężkie.	P	F
Najbardziej zanieczyszczonym regionem w Polsce jest Nizina Podlaska.	P	F
Zanieczyszczenie środowiska nie ma większego wpływu na zdrowie ludzi.	P	F
Eutrofizacja to inaczej nadmierne użyżnienie wód.	P	F

Usługi w Polsce. Zanieczyszczenie środowiska przyrodniczego Polski

imię i nazwisko _____

klasa _____ data _____

Test sprawdzający – rozdziały V i VI

- 1** Podkreśl rodzaje działalności gospodarczej zaliczane do usług. **0–1 p.**

*opieka społeczna, produkcja środków transportu,
działalność administracji państwowej,
górnictwo węgla brunatnego*

- 2** Przyporządkuj rodzajom transportu odpowiednie opisy (A–D). **0–3 p.**

- a) Transport samochodowy – _____
b) Transport kolejowy – _____
c) Transport przesyłowy – _____

- A. W przewozach ładunków tym rodzajem transportu dominują węgiel, koks oraz kamienie i żwir.
B. Przeładunek towarów odbywa się w portach.
C. Ma największy udział w przewozach ładunków na terenie naszego kraju.
D. Niezbędne do rozwoju tego rodzaju transportu są rafinerie.

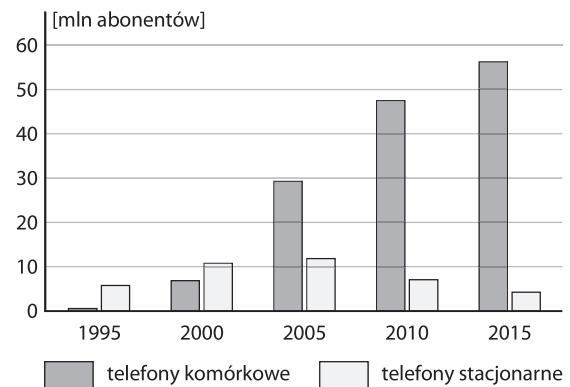
- 3** Na podstawie danych dotyczących przewozu pasażerów poszczególnymi rodzajami transportu w latach 2000 i 2015 uzupełnij zdania. **0–4 p.**

Rok	Liczba osób przewiezionych transportem				
	kolejowym (tys.)	samochodowym* (tys.)	morskim (tys.)	wodnym śródlądowym (tys.)	lotniczym (tys.)
2000	360 687	954 515	625	1 265	5 793
2015	277 321	416 774	597	1 762	7 288

* Dotyczy transportu samochodowego zarobkowego.

- a) W 2015 roku najmniej osób podróżowało transportem _____.
- b) W 2015 roku transportem lądowym przewieziono _____ tys. pasażerów.
- c) W latach 2000–2015 wzrosła liczba osób, które podróżowały między innymi transportem _____.
- d) W 2000 roku około 5,8 mln pasażerów przewieziono transportem _____.

- 4** Na podstawie wykresu przedstawiającego liczbę abonentów telefonii stacjonarnej i komórkowej w Polsce w latach 1995–2015 podkreśl poprawne informacje w poniższych zdaniach. **0–2 p.**



- a) Największy wzrost liczby abonentów telefonii komórkowej nastąpił w latach 2000–2005 / 2010–2015.
b) W 2000 roku liczba abonentów telefonii komórkowej była około dwukrotnie *mniejsza / większa* od liczby abonentów telefonii stacjonarnej.

- 5** Podaj dwa przykłady wpływu transportu morskiego na gospodarkę kraju. **0–2 p.**

- _____
- _____

- 6** Dopasuj do opisów celów wyjazdów turystycznych właściwy rodzaj turystyki wybrany spośród podanych. **0–2 p.**

wypoczynkowa, religijna, biznesowa, lecznicza

- A. Wyjazd na targi sportów wodnych i żeglarstwa do Hamburga w celu nawiązania kontaktów handlowych.

- B. Miesięczny pobyt na turnusie rehabilitacyjnym w Busku-Zdroju.

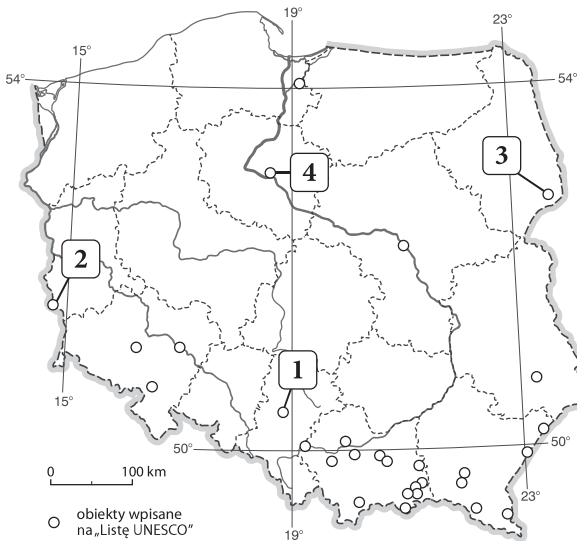
- C. Dwutygodniowy pobyt w pensjonacie w Sopocie.

7 Wpisz w odpowiednie miejsca tabeli poniższe określenia. **0-2 p.**

*imprezy kulturalne, parki krajobrazowe,
piaszczyste plaże, ciekawe muzea,
czyste powietrze, zamki krzyżackie*

Walory przyrodnicze	Walory kulturowe

8 Przyporządkuj nazwom obiektów wpisanych na Listę UNESCO cyfry, którymi zaznaczono te obiekty na mapie. **0-2 p.**



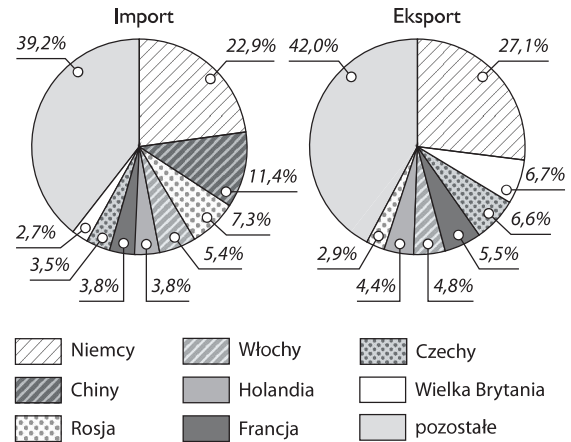
- A. Puszcza Białowieńska – _____
- B. Park Mużakowski nad Nysą Łużycką – _____
- C. Zabytkowa Kopalnia Srebra w Tarnowskich Górach – _____
- D. Średniowieczny zespół miejski Torunia – _____

9 Wyjaśnij, kiedy saldo bilansu handlowego jest ujemne. **0-1 p.**

10 Podkreśl nazwy trzech towarów eksportowych, z których Polska słynie na świecie. **0-1 p.**

*pralki, ropa naftowa, szynka, samoloty pasażerskie,
telefony komórkowe, autobusy*

11 Na podstawie wykresów przedstawiających głównych partnerów handlowych Polski w 2015 roku wykonaj polecenia. **0-2 p.**




- Niemcy
- Włochy
- Czechy
- Chiny
- Holandia
- Wielka Brytania
- Rosja
- Francja
- pozostałe

a) Uzupełnij zdanie właściwą nazwą państwa.
Kraj, który ma największy udział w polskim eksporcie, to _____.

b) Zaznacz poprawne dokończenie zdania.
W 2015 roku Polska miała dodatnie saldo handlu zagranicznego między innymi z
A. Wielką Brytanią i Włochami.
B. Rosją i Niemcami.
C. Czechami i Wielką Brytanią.

12 Uzupełnij schemat tak, aby prawidłowo przedstawiał proces powstawania kwaśnych opadów. **0-2 p.**

- A. Zakwaszanie gleb i wód.
- B. Obumieranie roślin.
- C. Spalanie węgla kamiennego i emitowanie do atmosfery między innymi tlenku siarki oraz tlenku węgla(IV).
- D. Reakcja tlenków siarki i azotu z parą wodną.
- E. Powstawanie kwaśnych opadów.



13 Oceń prawdziwość informacji. Zaznacz P, jeśli informacja jest prawdziwa, lub F, jeśli jest fałszywa. **0-3 p.**

Odpady pochodzenia rolniczego składa się na wysypiskach miejskich.	P	F
Wody większości polskich rzek zalicza się do IV i V klasy czystości.	P	F
Najbardziej zanieczyszczonym regionem w Polsce jest Górny Śląsk.	P	F
W 2015 roku oczyszczalnie ścieków obsługiwały około 73% ludności Polski.	P	F